




**Задания
по формированию
элементарных
математических
представлений
для дошкольников 6-7 лет**





Задание № 1. «Быстрый вопрос - быстрый ответ»

Вопросы:

- Посчитайте от 1 до 10 и обратно.
 - Назови соседей числа 4
 - Назови соседей числа 6.
 - Назови соседей числа 9.
 - Я задумала число, оно меньше 3 на одну единицу. Какое это число?
 - Я задумала число, оно больше 7 на единицу. Какое это число?
 - Назови дни недели.
 - Назови соседей среды?
 - Назовите соседей субботы?
 - Назовите части суток?
 - Сколько месяцев в году?
 - Сколько пальцев на одной руке?
- 




Задание №2. Реши задачи



Реши задачи. Запиши решения.

В цирке выступали две лошади и один слон. Сколько зверей выступало в цирке?



+	=		
---	---	--	--


Над цветами летали три бабочки и четыре стрекозы. Сколько насекомых летало над цветами?



+	=		
---	---	--	--

Реши задачи в стихах. Запиши их решения.

Три пушистых кошечки
Улеглись в лукошечку.
Тут одна к ним прибежала
Сколько вместе кошек стало?




--	--	--	--



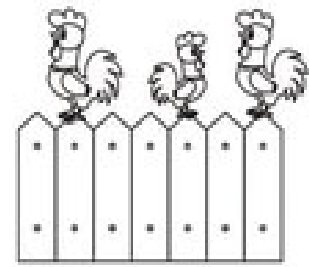
На пасеке три медвежонка
Играли в прятки у бочонка.
Один в бочонок еле влез.
А сколько убежало в лес?

--	--	--	--

Карандаш один у Миши.
Карандаш один у Гриши.
Сколько же карандашей
У обеих малышей?



--	--	--	--



На плетень взлетел петух,
Повстречал ещё там двух.
Сколько стало петухов?
У кого ответ готов?

--	--	--	--





Задание №3. «Графический диктант»

Подвиньте листочки, поставьте
карандаш на красную точку. Начинаем.

2 клетки вправо, 1 – вниз, 1 – вправо, 1- вниз, 1 – вправо, 1-
вниз, 1 – вправо,
2- вниз, 3 – влево, 4 – вниз, 2- влево, 4- вверх, 3 – влево, 2-
вверх, 1 – вправо,
1- вверх, 1 – вправо, 1- вверх, 1 – вправо, 1- вверх.





Молодцы!

